

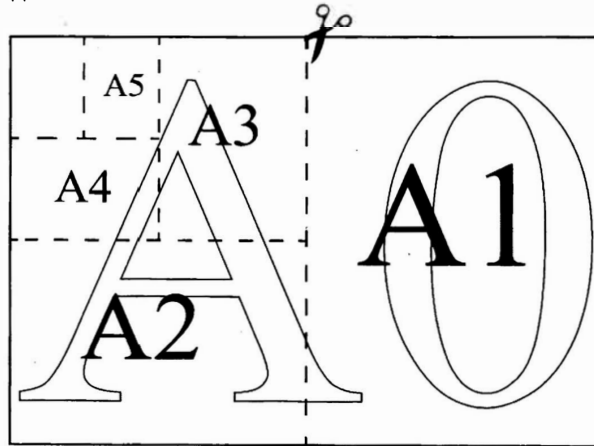
Демоверсия за II полугодие

Часть 1

Ответами к заданиям 1–19 являются число или последовательность цифр, которые следует записать в БЛАНК ОТВЕТОВ № 1 справа от номера соответствующего задания, начиная с первой клеточки. Если ответом является последовательность цифр, то запишите её без пробелов, запятых и других дополнительных символов. Каждый символ пишете в отдельной клеточке в соответствии с приведёнными в бланке образцами.

Прочитайте внимательно текст и выполните задания 1–5.

Общепринятые форматы листов бумаги обозначают буквой А и цифрой: А0, А1, А2 и так далее. Лист формата А0 имеет форму прямоугольника, площадь которого равна 1 кв. м. Если лист формата А0 разрезать пополам параллельно меньшей стороне, получается два равных листа формата А1. Если лист А1 разрезать так же пополам, получается два листа формата А2. И так далее.



Отношение большей стороны к меньшей стороне листа каждого формата одно и то же, поэтому листы всех форматов подобны. Это сделано специально для того, чтобы пропорции текста и его расположение на листе сохранялись при уменьшении или увеличении шрифта при изменении формата листа.

1. В таблице даны размеры (с точностью до мм) четырёх листов, имеющих форматы А0, А1, А3 и А4.

Номер листа	Длина (мм)	Ширина (мм)
1	297	210
2	420	297
3	1189	841
4	841	594

Установите соответствие между форматами и номерами листов. Заполните таблицу, в бланк ответов перенесите последовательность четырёх цифр, соответствующих номерам листов, без пробелов, запятых и дополнительных символов.

A0	A1	A3	A4

2. Сколько листов формата A3 получится из одного листа формата A2?

Ответ: _____

3. Найдите площадь листа формата A1. Ответ дайте в квадратных сантиметрах.

Ответ: _____

4. Найдите отношение длины большей стороны листа формата A2 к меньшей. Ответ округлите до десятых.

Ответ: _____

5. Бумагу формата A5 упаковали в пачки по 500 листов. Найдите массу пачки, если масса бумаги площади 1 кв. м равна 80 г. Ответ дайте в граммах.

Ответ: _____

6. Найдите значение выражения $\frac{3}{5} \cdot \frac{25}{4}$.

Ответ: _____

7. Какое из данных ниже чисел принадлежит отрезку $[4; 5]$?

1) $\frac{49}{15}$

2) $\frac{52}{15}$

3) $\frac{58}{15}$

4) $\frac{71}{15}$

Ответ: .

8. Найдите значение выражения $\frac{(5^2)^{-8}}{5^{-18}}$.

Ответ: _____

9. Решите уравнение $4x^2 - 16x = 0$.

Если уравнение имеет более одного корня, в ответ запишите больший из корней.

Ответ: _____

10. В соревнованиях по толканию ядра участвуют 5 спортсменов из Португалии, 8 спортсменов из Испании, 3 спортсмена из Исландии и 9 — из Франции. Порядок, в котором выступают спортсмены, определяется жребием. Найдите вероятность того, что последним будет выступать спортсмен из Португалии.

Ответ: _____

11. Установите соответствие между функциями и их графиками.

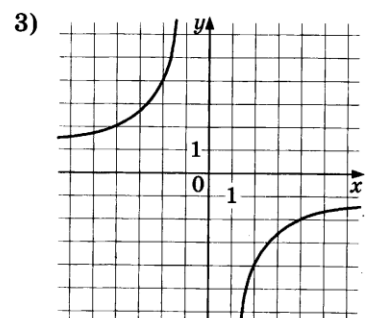
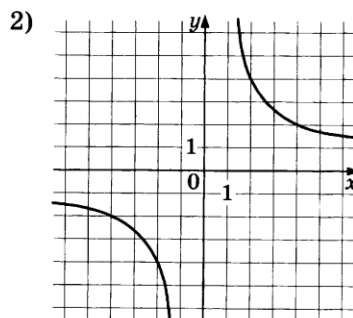
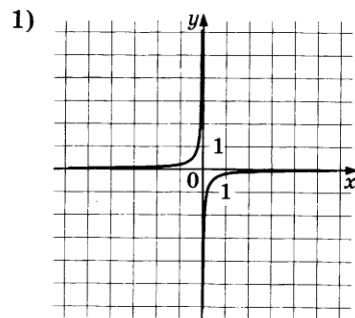
ФУНКЦИИ

А) $y = \frac{8}{x}$

Б) $y = -\frac{1}{8x}$

В) $y = -\frac{8}{x}$

ГРАФИКИ



В таблице под каждой буквой укажите соответствующий номер.


Ответ:

А	Б	В

12. Энергия заряженного конденсатора W (в Дж) вычисляется по формуле $W = \frac{q^2}{2C}$, где C — ёмкость конденсатора (в Ф), а q — заряд на одной обкладке конденсатора (в Кл). Найдите энергию конденсатора (в Дж) ёмкостью 10^{-4} Ф, если заряд на его обкладке равен 0,0022 Кл.

Ответ: _____

13. Укажите неравенство, решение которого изображено на рисунке.



1) $x^2 - 1 \geq 0$

2) $x^2 - x \geq 0$

3) $x^2 - 1 \leq 0$

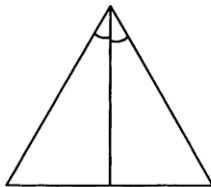
4) $x^2 - x \leq 0$

Ответ: .

14. При проведении опыта вещество равномерно охлаждали в течение 10 минут. При этом каждую минуту температура вещества уменьшалась на 8°C . Найдите температуру вещества (в градусах Цельсия) через 6 минут после начала проведения опыта, если его начальная температура составляла -6°C .

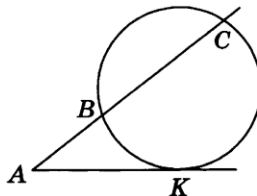
Ответ: _____

15. Биссектриса равностороннего треугольника равна $17\sqrt{3}$. Найдите сторону этого треугольника.



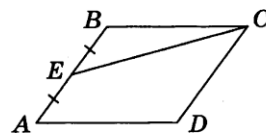
Ответ: _____

16. Через точку A , лежащую вне окружности, проведены две прямые. Одна прямая касается окружности в точке K . Другая прямая пересекает окружность в точках B и C , причём $AB = 4$, $BC = 12$. Найдите AK .



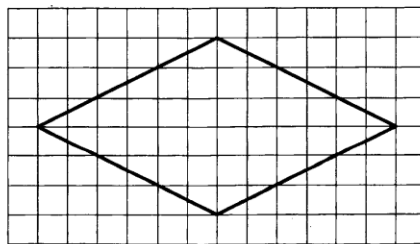
Ответ: _____

17. Площадь параллелограмма $ABCD$ равна 76. Точка E — середина стороны AB . Найдите площадь трапеции $DAEC$.



Ответ: _____

18. На клетчатой бумаге с размером клетки 1×1 изображён ромб. Найдите длину его большей диагонали.



Ответ: _____

19. Какое из следующих утверждений верно?

- 1) Если стороны одного четырёхугольника соответственно равны сторонам другого четырёхугольника, то такие четырёхугольники равны.
- 2) Площадь ромба равна произведению двух его смежных сторон на синус угла между ними.
- 3) Смежные углы всегда равны.

В ответ запишите номер выбранного утверждения.

Ответ: _____

Не забудьте перенести все ответы в бланк ответов № 1 в соответствии с инструкцией по выполнению работы. Проверьте, чтобы каждый ответ был записан в строке с номером соответствующего задания.

Часть 2

При выполнении заданий 20–25 используйте БЛАНК ОТВЕТОВ № 2. Сначала укажите номер задания, а затем запишите его решение и ответ. Пишите чётко и разборчиво.

20. Решите систему уравнений
$$\begin{cases} (x-4)(y-7)=0, \\ \frac{y-5}{x+y-9}=2. \end{cases}$$

21. Первый рабочий за час делает на 10 деталей больше, чем второй, и выполняет заказ, состоящий из 60 деталей, на 3 часа быстрее, чем второй рабочий, выполняющий такой же заказ. Сколько деталей в час делает первый рабочий?

22. Постройте график функции

$$y = \begin{cases} x - 0,5 & \text{при } x < -2, \\ -2x - 6,5 & \text{при } -2 \leq x \leq -1, \\ x - 2 & \text{при } x > -1. \end{cases}$$

Определите, при каких значениях m прямая $y = m$ имеет с графиком ровно две общие точки.

23. Расстояние от точки пересечения диагоналей ромба до одной из его сторон равно 11, а одна из диагоналей ромба равна 44. Найдите углы ромба.

24. В выпуклом четырёхугольнике $ABCD$ углы BCA и BDA равны. Докажите, что углы ABD и ACD также равны.

25. В параллелограмме $ABCD$ проведена диагональ AC . Точка O является центром окружности, вписанной в треугольник ABC . Расстояния от точки O до точки A и прямых AD и AC соответственно равны 25, 13 и 7. Найдите площадь параллелограмма $ABCD$.

Проверьте, чтобы каждый ответ был записан рядом с номером соответствующего задания.